

TEST WIEDZY - GIMNAZJUM

Poniżej znajduje się test, na napisanie którego masz 60 minut. W każdym zadaniu **tylko jedna odpowiedź** jest prawidłowa. Po rozwiązaniu testu wybrane odpowiedzi uważnie przenieś na kartę. Pamiętaj, że na karcie **nie dopuszcza się** wprowadzania poprawek.

1. Województwo lubelskie ma ok. 2,15 mln mieszkańców (2013). Jaka to część ogólnej liczby ludności Polski?
A) 4,9% B) 5,7% C) 6,3% D) 6,5%
2. Miasto w województwie lubelskim, nad rzeką Piwonią, to:
A) Hrubieszów B) Łuków C) Parczew D) Zamość
3. Który znany polski pisarz osiedlił się w Nałęczowie?
A) Stefan Żeromski B) Henryk Sienkiewicz C) Józef I. Kraszewski D) Józef Czechowicz
4. Stare Miasto nawiązuje do renesansowych wzorów „miasta idealnego”. Gdzie możemy zobaczyć ten unikatowy w skali światowej (wpisany na listę UNESCO) układ urbanistyczny?
A) w Kazimierzu Dolnym B) w Lublinie C) w Puławach D) w Zamościu
5. Kto w Puławach założył w 1801 r. pierwsze w Polsce muzeum?
A) Izabela Czartoryska B) Stanisław Staszic C) Jan Zamoyski D) Anna Lubomirska
6. Najcenniejszym zabytkiem Lublina jest:
A) baszta obronna z początku XIII w. na Zamku C) Brama Krakowska
B) gotycka kaplica Św. Trójcy z XV w. na Zamku D) kościół Dominikanów
7. Jaką część województwa lubelskiego obszar zajmuje powiat chełmski?
A) 4,5% B) 5,4% C) 6,8% D) 7,5%
8. Który z wymienionych powiatów nie sąsiaduje z powiatem chełmskim?
A) hrubieszowski B) bialski C) krasnostawski D) świdnicki
9. Który z wymienionych rezerwatów powiatu chełmskiego jest rezerwatem faunistycznym?
A) Bachus B) Wolwinów C) Siedliszcze D) Serniawy
10. Który z wymienionych rezerwatów powiatu chełmskiego nie jest rezerwatem torfowiskowym?
A) Brzeźno B) Bachus C) Roskosz D) Sobowice
11. Jaką nazwę ma wzgórze widokowe w pobliżu Chełma, uznane za pomnik przyrody?
A) Dziewicza Góra B) Arianka C) Stawska Góra D) Kumowa Góra

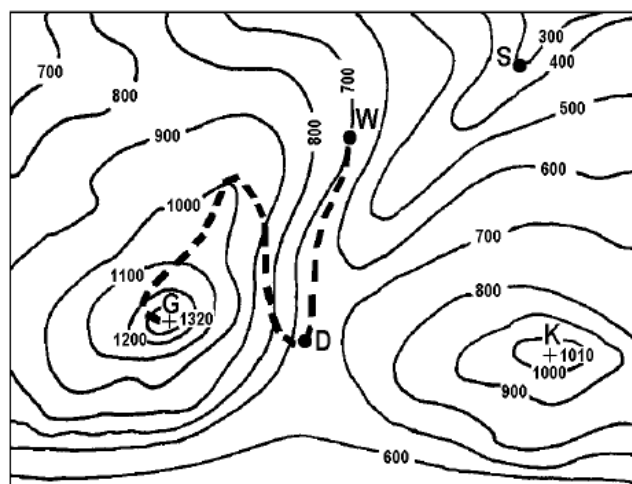
12. Która rzeka nie jest dopływem Bugu?
 A) Udal B) Świnka C) Uherka D) Wełnianka
13. Kto dowodził polskim wojskiem w bitwie pod Dubienką 18.07.1792 r.?
 A) Józef Zajączek B) Jan Krysiński C) Lelewel Borelowski D) Tadeusz Kościuszko
14. Kiedy stoczono bitwę pod Malinówką k. Sawina?
 A) 12.01.1863 r. B) 21.01.1863 r. C) 12.11.1863 r. D) 21.11.1863 r.
15. Jaką funkcję prawdopodobnie pełniła sala na czwartej kondygnacji wieży w Stołpiu?
 A) sypialni B) skarbcza C) sali reprezentacyjnej D) kaplicy
16. Jeden z najcenniejszych zabytków sztuki sakralnej na Ziemi Chełmskiej - namalowany w drugiej połowie XVII wieku obraz Matki Boskiej zwanej Mielnicką znajduje się:
 A) w Muzeum Ziemi Chełmskiej C) w kościele p.w. Św. Małgorzaty w Olchowcu
 B) w kościele p.w. Św. Michała w Wojsławicach D) w kościele p.w. Chrystusa Odkupiciela w Chełmie
17. W jakiej miejscowości Marianna Daniłowiczowa ufundowała w 1762 roku pięć kapliczek na drogach wylotowych, które według legendy mają strzec przed klątwą rzuconą przez rabina?
 A) w Czuczycach B) w Wojsławicach C) w Brzeźnie D) w Żmudzi
18. Gdzie znajduje się zespół dworsko-parkowy z XIX w. z dworem zbudowanym w stylu secesyjno-eklektycznym z inicjatywy właściciela dóbr Tytusa Piotrowskiego?
 A) w Mogilnicy B) w Raciborowicach C) w Krasnem D) w Stawie
19. W którym roku Siedliszcze utraciło prawa miejskie?
 A) 1815 B) 1821 C) 1831 D) 1863
20. Podkowa jest elementem herbu gminy:
 A) Leśniowice i Dorohusk C) Białopole i Wojsławice
 B) Leśniowice i Ruda Huta D) Ruda Huta i Wierzbica
21. Chełm leży w pobliżu granicy polsko-ukraińskiej. Ile km ma trasa Chełm-Dorohusk?
 A) 19 km B) 24 km C) 29 km D) 39 km
22. Najwyższy punkt w Chełmie - Górka Chełmska ma wysokość:
 A) 193 m n.p.m. B) 211 m n.p.m. C) 221 m n.p.m. D) 233 m n.p.m.
23. Kiedy Daniel Romanowicz przeniósł stolicę swego księstwa z Halicza do Chełma?
 A) ok. 1234 r. B) ok. 1237 r. C) ok. 1287 r. D) ok. 1392 r.
24. W jakim stylu Paweł Fontana w XVIII w. zaprojektował katedrę (obecnie Bazylika p.w. Narodzenia Najświętszej Marii Panny) na Górcze Chełmskiej?
 A) renesansowym B) barokowym C) klasycystycznym D) neorenesansowym

25. Kto wykonał rzeźby w kościele p.w. Rozesłania Świętych Apostołów w Chełmie?
 A) Michał Filewicz B) Tomasz Rezler C) Józef Mayer D) Franciszek Smuglewicz
26. Kim nie był Samuel Chróścikowski (1730-1799)?
 A) rektorem chełmskiego Kolegium Pijarów C) matematykiem
 B) fizykiem D) biskupem unickim
27. W jakich latach wybudowano cerkiew prawosławną p.w. Św. Jana Teologa w Chełmie?
 A) 1832-1836 B) 1846-1849 C) 1852-1856 D) 1855-1858
28. Na rogu dziedzina dawnego Instytutu Maryjskiego w Chełmie rośnie unikalne drzewo. Ten pomnik przyrody należy do najstarszych gatunków drzew na świecie i nosi nazwę:
 A) ajlant gruczołowaty B) miłorząb dwuklapowy C) jesion wyniosły D) dąb szypułkowy
29. Ilu Żydów mieszkało w Chełmie tuż przed wybuchem II wojny światowej?
 A) ok. 5 000 B) ok. 10 000 C) ok. 15 000 D) ok. 25 000
30. Obóz jeniecki, założony przez Niemców na obrzeżach Chełma w połowie 1941 r. to:
 A) Stalag 2C B) Stalag 4B C)) Stalag 219 D) Stalag 319
31. Był jednym ze współzałożycieli Polskiego Towarzystwa Tatrzańskiego; uznawany w drugiej połowie XIX wieku za „odkrywcę” Zakopanego:
 A) Tytus Chałubiński B) Aleksander Janowski C) Zygmunt Gloger D) Mariusz Zaruski
32. Autorem pierwszego polskiego „Przewodnika do Tatr i Pienin” jest:
 A) Stanisław Staszic B) Wincenty Pol C) Walery Eliasz Radzikowski D) Feliks Pławicki
33. Połączenie PTT i PTK w Polskie Towarzystwo Turystyczno-Krajoznawcze nastąpiło w roku:
 A) 1930 B) 1950 C) 1956 D) 1980
34. Oddział PTK w Chełmie powstał w roku:
 A) 1908 B) 1910 C) 1912 D) 1918
35. Kiedy jest obchodzony Światowy Dzień Turystyki?
 A) 21 marca B) 15 maja C) 24 czerwca D) 27 września
36. Dla propagowania turystyki kajakowej PTTK opracowało regulamin zdobywania odznaki w skrócie zwanej:
 A) MOK B) KOT C) TOK D) OTK
37. Najstarszą odznaką turystyki kwalifikowanej w Polsce jest:
 A) NOM B) GOT C) OTP D) TOK
38. Ile punktów na OTP można zdobyć za zwiedzanie Lublina?
 A) 5 B) 10 C) 15 D) 20

39. PTTK opiekuje się obecnie siecią różnorodnych szlaków turystycznych o łącznej długości ponad:
 A) 46 tys. km B) 50 tys. km C) 54 tys. km D) 64 tys. km
40. Buty turystyczne przeznaczone na krótkie wędrówki z lekkim plecakiem w górach typu beskidzkiego i na jednodniowe wypadki za miasto mają oznaczenie:
 A) Outdoor (A) B) Hiking (B) C) Trekking (B/C) D) Backpack (C)
41. Na wycieczce korzystasz z mapy w skali 1:25 000. Odległość między przystankiem autobusowym a muzeum zmierzona na mapie wnosi 12,5 cm. Ile będzie wynosić ta odległość w terenie?
 A) 250 m B) 1250 m C) 2000 m D) 3125 m
42. Jakiemu kierunkowi odpowiada azymut 135° ?
 A) SE B) S C) W D) SW

Mapa do zadań 43.-45.

Na fragmencie poziomicowej mapy terenu górskiego zaznaczone są punkty: **D, G, K, S i W**.



- D – drogowskaz
- G – szczyt
- K – szczyt
- S – szałas
- W – miejsce odpoczynku
- — — — — ścieżka

Skala 1 : 25000

43. Jaką wysokość względną ma punkt oznaczony literą K (szczyt) w odniesieniu do punktu oznaczonego literą S (szałas)?
 A) 300 m n.p.m. B) 710 m n.p.m. C) 710 m D) 1310 m
44. Na jakiej wysokości bezwzględnej znajduje się drogowskaz oznaczony na mapie literą D?
 A) mniejszej niż 600 m n.p.m. C) co najmniej 600 m n.p.m. i mniejszej niż 700 m n.p.m.
 B) większej niż 800 m n.p.m. D) co najmniej 700 m n.p.m. i mniejszej niż 800 m n.p.m.
45. Szałas oznaczony na mapie literą S znajduje się:
 A) na przełęczy B) na grzbiecie C) na szczycie D) w dolinie
46. Przechodzenie przez jezdnię poza wyznaczonym przejściem dla pieszych jest dozwolone, gdy:
 A) jest zawsze zabronione
 B) odległość od przejścia dla pieszych wynosi 50 metrów
 C) odległość od przejścia dla pieszych jest większa niż 100 metrów

47. Wymijanie to:

- A) przejeżdżanie rowerem obok innego roweru jadącego z przeciwka
- B) przejeżdżanie rowerem obok pieszego idącego w tym samym kierunku
- C) przejeżdżanie rowerem obok unieruchomionego samochodu

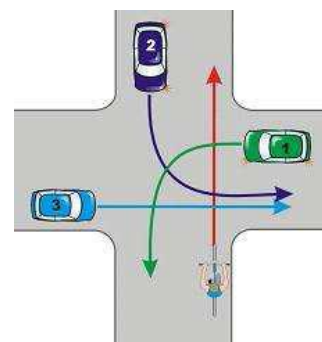
48. Przedstawiony znak:

- A) zabrania zawracania i skręcania w lewo
- B) nie zabrania skrętu w lewo
- C) obowiązuje tylko na najbliższym skrzyżowaniu



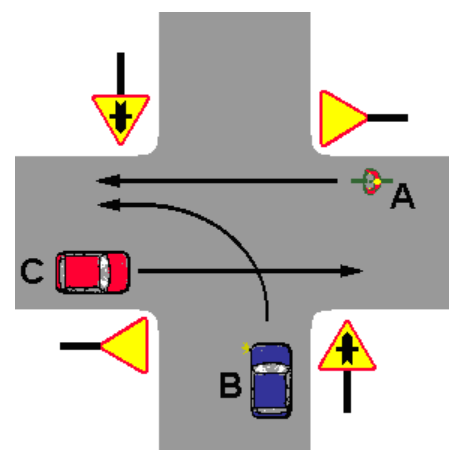
49. W przedstawionej sytuacji kierujący rowerem ma pierwszeństwo przed pojazdem:

- A) nr 1
- B) nr 2
- C) nr 3



50. W sytuacji przedstawionej na rysunku kierujący rowerem:

- A) ustępuje pierwszeństwa pojazdowi B
- B) ustępuje pierwszeństwa pojazdom B i C
- C) ma pierwszeństwo przed pojazdem C



51. Przy krwotoku z tętnicy szyjnej stosujesz:

- A) opatrunek uciskowy
- B) opaskę uciskową
- C) opatrunek trójstronny
- D) opatrunek jałowy przyciśnięty ręką

52. W jakiej pozycji należy ułożyć poszkodowanego ze wstrząsem w przebiegu intensywnego krwawienia z kończyny górnej?

- A) w pozycji embrionalnej
- B) w pozycji leżącej z uniesionymi kończynami dolnymi o 30 stopni
- C) w pozycji siedzącej z uniesieniem kończyny górnej
- D) w pozycji bocznej ustalonej

53. Po leśnej wędrowce zauważyłeś na nodze kleszcza. Jak należy go usunąć?

- A) posmarować go tłuszczem, po chwili sam odpadnie
- B) należy bezwzględnie udać się do lekarza
- C) złapać delikatnie pęsetą tuż przy powierzchni skóry i zdecydowanym ruchem go wyciągnąć
- D) należy użyć płonącej zapałki lub zapalniczki, aby sparaliżować kleszcza

54. Resuscytację krążeniowo-oddechową z nagłym zatrzymaniem oddychania i krążenia u osoby dorosłej prowadzimy według schematu:
- A) 2 oddechy : 15 uciśnień mostka
 - B) 30 uciśnień na środek klatki piersiowej : 2 oddechy
 - C) 1 oddech : 5 uciśnień na środek klatki piersiowej
 - D) 15 uciśnień na klatkę piersiową w okolicy serca : 2 oddechy
55. Śmierć kliniczna to:
- A) czas 4-6 minut od zatrzymania pracy serca
 - B) stan, w którym występuje tętno ale brak oddechu
 - C) stan występujący zaraz po śmierci biologicznej
 - D) stan po 10 minutach od zatrzymania pracy serca

.....
Czytelny podpis uczestnika konkursu